

משרד החינוך
המזכירות הפדגוגית – אגף מדעים
הפיקוח על הוראת המתמטיקה
מאגר משימות הערכה

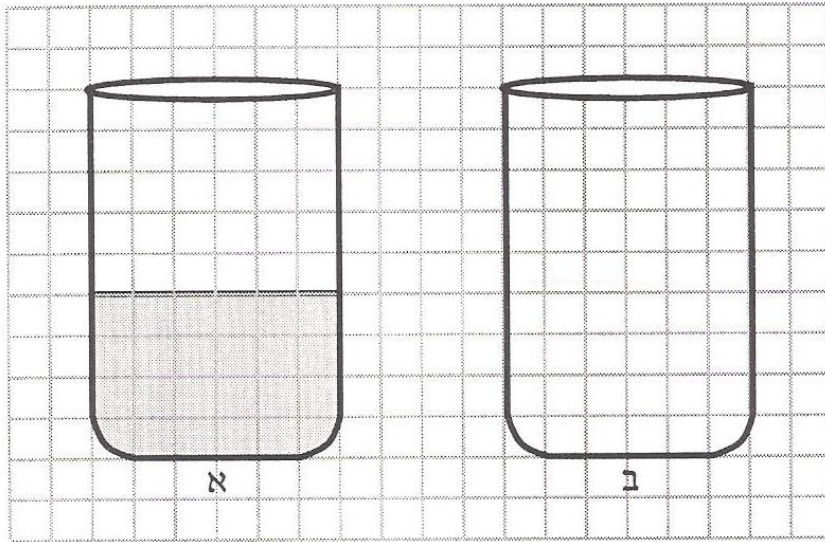


שמי: _____ הכיתה שלי: _____

כוסות מים

בכל סעיף מצוירות שתי כוסות מים באותו גודל.

1. סמנו בכוס ב' 25% בערך מכמות המים שבכוס א'



משרד החינוך, התרבות והספורט

הגופים המשתתפים בפרויקט:

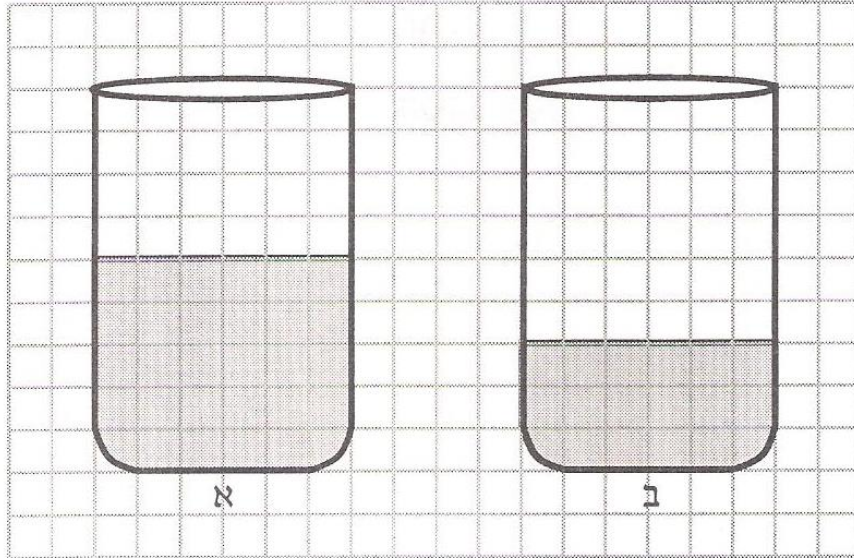
האגף הבכיר למיכון ומערכות מידע
חטיבת מערכות מידע בחינוך

לשכת
המדען הראשי

המינהל הפדגוגי
האגף לתכניות לימודים
המחלקה למחקר והערכה

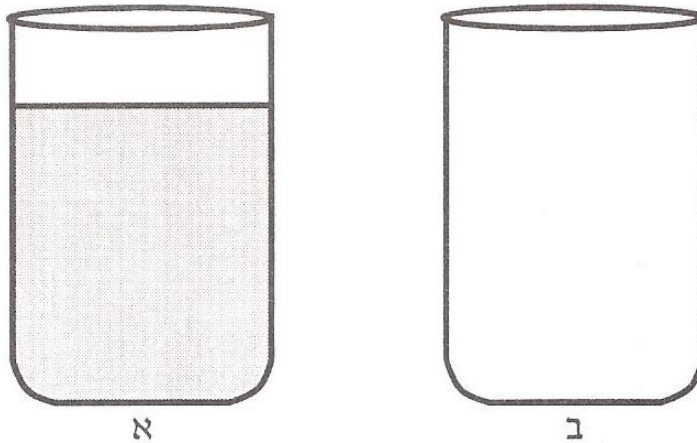
משרד החינוך
המזכירות הפדגוגית – אגף מדעים
הפיקוח על הוראת המתמטיקה
מאגר משימות הערכה

2. כמות המים בכוס ב' היא % ____ בערך מכמות המים שבכוס א'.



3. א. סמנו בכוס ב' 48% בערך מכמות המים שבכוס א'

ב. הסבירו את שיקוליכם:



משרד החינוך, התרבות והספורט

הגופים המשתתפים בפרויקט:

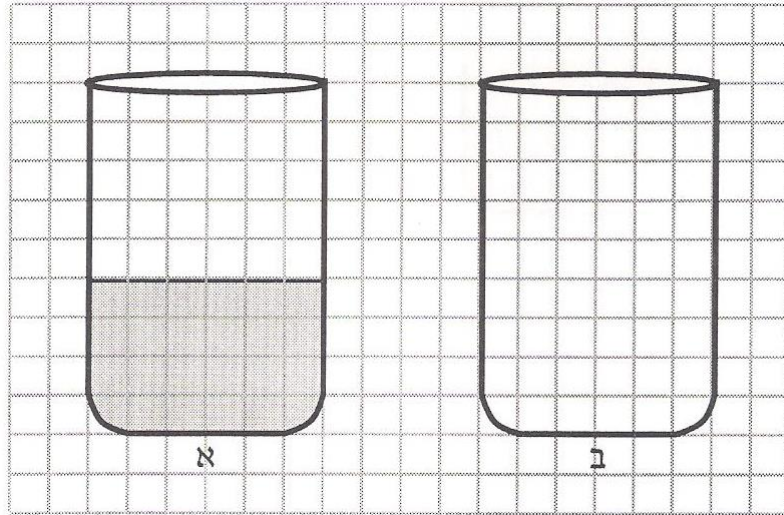
האגף הבכיר למיכון ומערכות מידע
חטיבת מערכות מידע בחינוך

לשכת
המדען הראשי

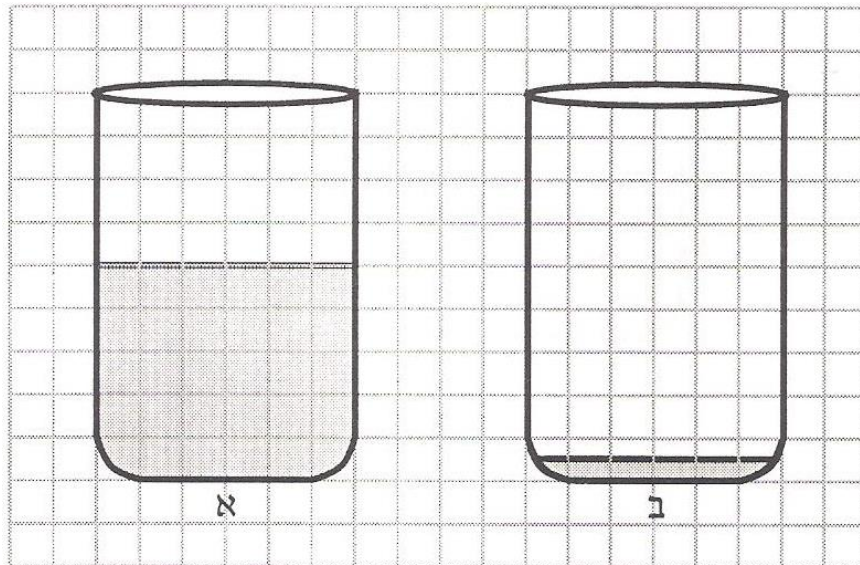
המינהל הפדגוגי
האגף לתכניות לימודים
המחלקה למחקר והערכה

משרד החינוך
 המזכירות הפדגוגית – אגף מדעים
 הפיקוח על הוראת המתמטיקה
 מאגר משימות הערכה

4. א. סמנו בכוס ב' 90% בערך מכמות המים שבכוס א'
 ב. הסבירו את שיקוליכם:



5. כמות המים בכוס ב' היא ___ % בערך מכמות המים שבכוס א'.



משרד החינוך, התרבות והספורט

הגופים המשתתפים בפרויקט:

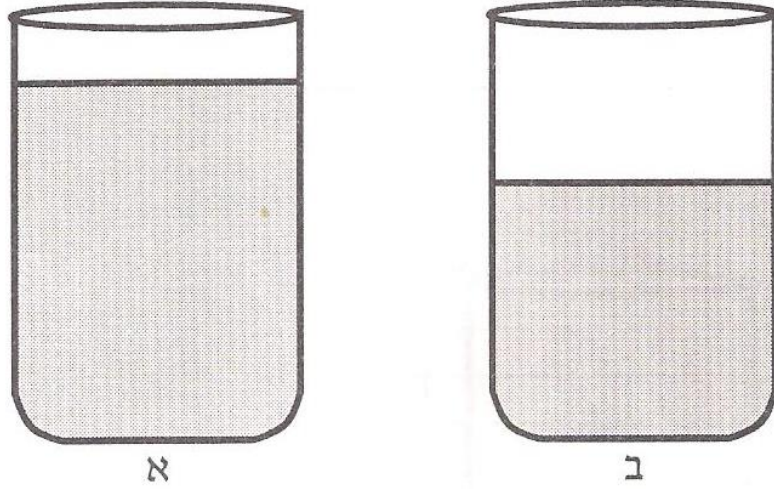
האגף הבכיר למיכון ומערכות מידע
 חטיבת מערכות מידע בחינוך

לשכת
 המדען הראשי

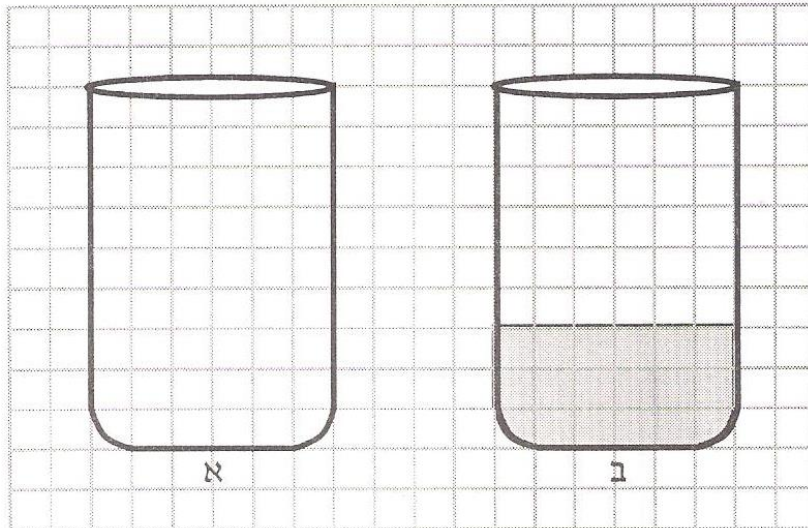
המינהל הפדגוגי
 האגף לתכניות לימודים
 המחלקה למחקר והערכה

משרד החינוך
המזכירות הפדגוגית – אגף מדעים
הפיקוח על הוראת המתמטיקה
מאגר משימות הערכה

6. כמות המים בכוס ב' היא % ____ בערך מכמות המים שבכוס א'.



7. כמות המים בכוס ב' היא 50% מכמות המים שבכוס א'. סמנו את כמות המים בכוס א'.



משרד החינוך, התרבות והספורט

הגופים המשתתפים בפרויקט:

האגף הבכיר למיכון ומערכות מידע
חטיבת מערכות מידע בחינוך

לשכת
המדען הראשי

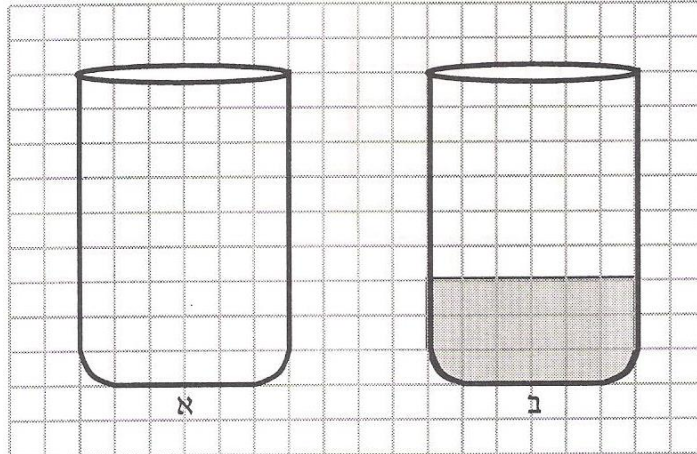
המינהל הפדגוגי
האגף לתכניות לימודים
המחלקה למחקר והערכה

משרד החינוך
המזכירות הפדגוגית – אגף מדעים
הפיקוח על הוראת המתמטיקה
מאגר משימות הערכה

8. א. כמות המים בכוס ב' היא 75% מכמות המים שבכוס א'.

סמנו את כמות המים בכוס א'.

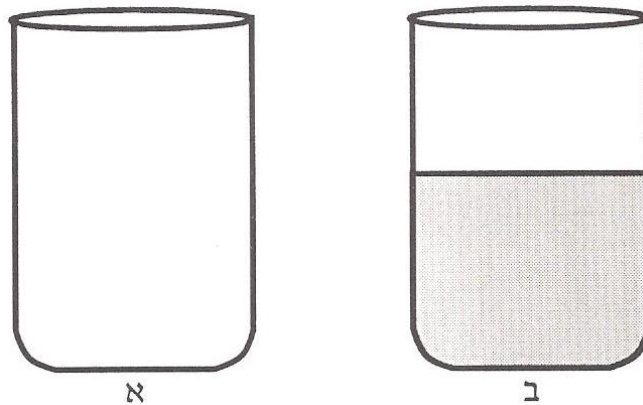
ב. הסבירו את שיקוליכם: _____



9. א. כמות המים בכוס ב' היא 90% מכמות המים שבכוס א'.

סמנו את כמות המים בכוס א'.

ב. הסבירו את שיקוליכם: _____



משרד החינוך, התרבות והספורט

הגופים המשתתפים בפרויקט:

האגף הבכיר למיכון ומערכות מידע
חטיבת מערכות מידע בחינוך

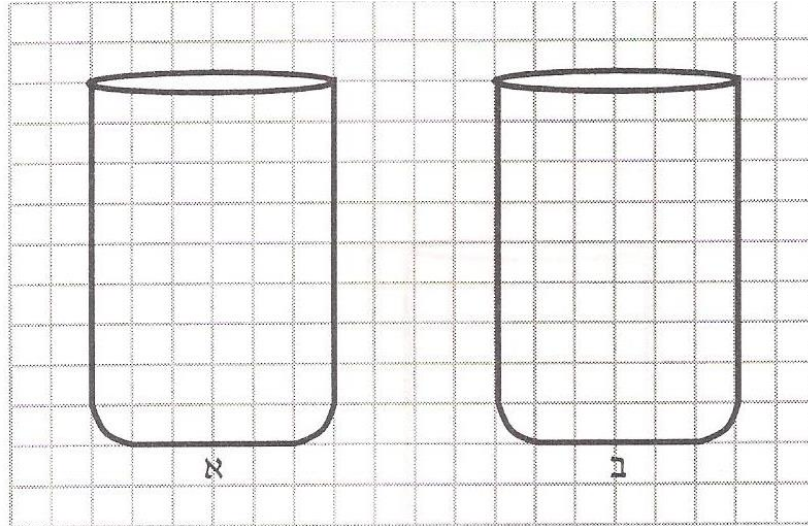
לשכת
המדען הראשי

האגף לחינוך יסודי

המינהל הפדגוגי
האגף לתכניות לימודים
המחלקה למחקר והערכה

משרד החינוך
המזכירות הפדגוגית – אגף מדעים
הפיקוח על הוראת המתמטיקה
מאגר משימות הערכה

10. סמנו כמויות מים בשתי הכוסות, כך שכמות המים בכוס ב' 35% בערך מן מהכמות שבכוס א'.



משרד החינוך, התרבות והספורט

הגופים המשתתפים בפרויקט:

האגף הבכיר למיכון ומערכות מידע
חטיבת מערכות מידע בחינוך

לשכת ייצור
המדען הראשי

המינהל הפדגוגי
האגף לתכניות לימודים
המחלקה למחקר והערכה